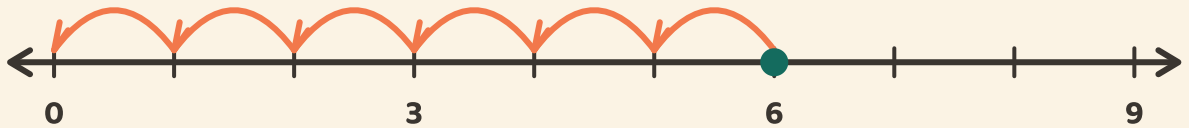


Salta hasta cero

Nombre: _____ Fecha: _____

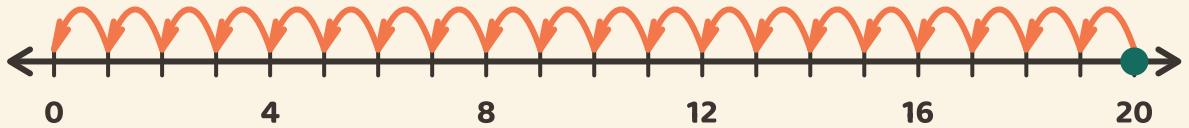
★ Cuenta los saltos iguales de vuelta a cero. Escribe cuántos saltos hacen falta.

1



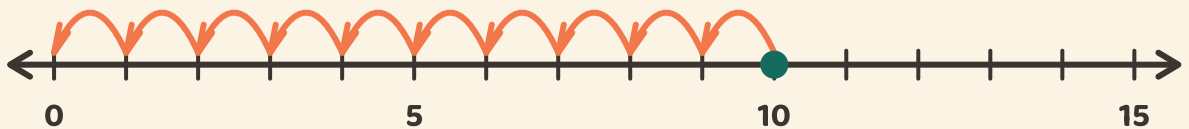
$$6 \div 3 = \square$$

2



$$20 \div 4 = \square$$

3



$$10 \div 5 = \square$$