

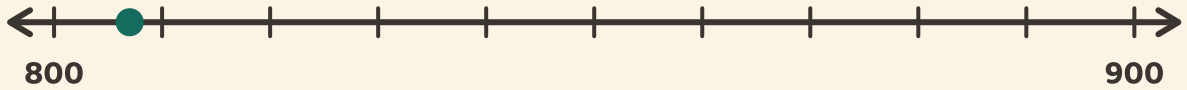
Redondea a la centena

Nombre: _____ Fecha: _____



Mira el punto. Rodea la centena a la que está más cerca.

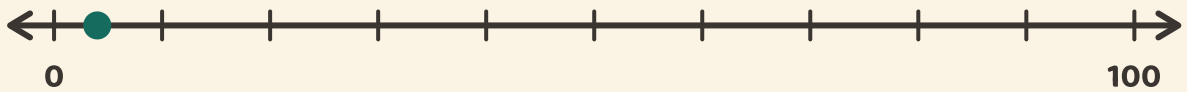
1



900

800

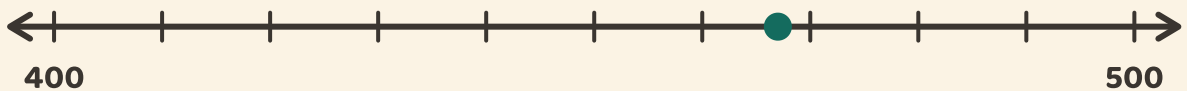
2



100

0

3



400

500