






Cuenta en grupos

Nombre: _____ Fecha: _____

★ Cada cuadro tiene la misma cantidad. Cuenta y escribe el total acumulado.

				
<input type="text" value="5"/>	<input type="text"/>	<input type="text"/>	<input type="text"/>	<input type="text"/>