


¿Cuántas decenas?

Nombre: _____ Fecha: _____


★ Cuenta las barras de diez. Completa la operación.

1



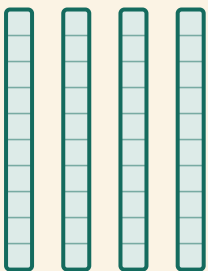
$$\square \times 10 = \square$$

2




$$\square \times 10 = \square$$

3



$$\square \times 10 = \square$$

4



$$\square \times 10 = \square$$