


# Forma una decena

Nombre: \_\_\_\_\_ Fecha: \_\_\_\_\_




Rodea 10 unidades para agrupar una decena. Escribe cuántas decenas y unidades.

1




$$\square \times 10 + \square$$

2




$$\square \times 10 + \square$$

3



$$\square \times 10 + \square$$

4



$$\square \times 10 + \square$$