





















Aartenetsintä

Seuraa vihjeitä ja löydä aarre!

Aloita kohdasta B1.
Liiku etelään 3 ruutua.
Liiku pohjoiseen 3 ruutua.
Liiku itään 3 ruutua.

Liiku länteen 2 ruutua Missä on aarre?

	1	2	3	4	5
A					
B					
C					
D					
E	