

Aartenetsintä

Seuraa vihjeitä ja löydä aarre!





















Aloita kohdasta C3.

Liiku pohjoiseen 1 ruutu.

Liiku itään 2 ruutua.

Liiku etelään 2 ruutua.

Liiku pohjoiseen 2 ruutua Missä on aarre?

	1	2	3	4	5
A					
B					
C					
D					
E	