

# Aartenetsintä

Seuraa vihjeitä ja löydä aarre!





















Aloita kohdasta E3.

Liiku itään 2 ruutua.

Liiku pohjoiseen 1 ruutu.

Liiku pohjoiseen 3 ruutua.

Liiku länteen 2 ruutua Missä on aarre?

	1	2	3	4	5
A					
B					
C					
D					
E	