

Aarteetsintä

Seuraa vihjeitä ja löydä aarre!


























Aloita kohdasta A3.

Liiku etelään 1 ruutu.

Liiku etelään 2 ruutua.

Liiku länteen 1 ruutu.

Liiku länteen 1 ruutu Missä on aarre?

| | 1 | 2 | 3 | 4 | 5 |
|---|---|---|---|--|---|
| A |  |  |  |  |  |
| B |  |  |  |  |  |
| C |  |  |  |  |  |
| D |  |  |  |  |  |
| E |  |  |  |  |  |