

Aartenetsintä

Seuraa vihjeitä ja löydä aarre!





















Aloita kohdasta E2.

Liiku oikealle 3 ruutua.

Liiku vasemmalle 2 ruutua.

Liiku vasemmalle 2 ruutua.

Liiku ylös 3 ruutua Missä on aarre?

	1	2	3	4	5
A					
B					
C					
D					
E	