


Kierrä reuna

Nimi: _____ Päivämäärä: _____




Laske yksikkösärmät jokaisen suorakulmion ympäri. Kirjoita piiri.


1



2



3



4

