





Joka kuva on kaksi

Nimi: _____ Päivämäärä: _____

★ Joka kuva tarkoittaa 2:ta! Kirjoita jokaisen rivin todellinen määrä.

	    
	     
	  
	 
 = 2	

	=	<input type="text"/>
	=	<input type="text"/>
	=	<input type="text"/>
	=	<input type="text"/>