










Joka kuva on viisi

Nimi: _____ Päivämäärä: _____

★ Joka kuva tarkoittaa 5:tä! Kirjoita jokaisen rivin todellinen määrä.

	_____
	_____
	_____
	_____
 = 5	

	=	<input type="text"/>
	=	<input type="text"/>
	=	<input type="text"/>
	=	<input type="text"/>