


Yhteenlaskusta kertolaskuun

Nimi: _____ Päivämäärä: _____


★ Laske yhtä suuret ryhmät. Täydennä kertolasku.

1




$$3 \times 4 = \square$$

2




$$4 \times 3 = \square$$

3



$$3 \times 2 = \square$$

4



$$3 \times 2 = \square$$