


Montako ryhmää?

Nimi: _____ Päivämäärä: _____

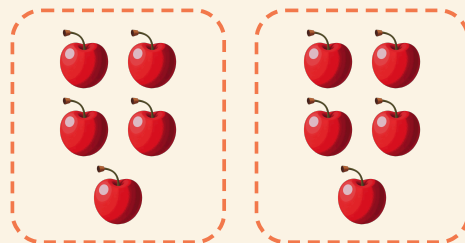
★ Renkaat tekevät yhtä suuria ryhmiä. Kirjoita, montako ryhmää on.

1




$$20 \div 5 = \square$$

2




$$10 \div 5 = \square$$

3



$$12 \div 3 = \square$$

4



$$4 \div 2 = \square$$