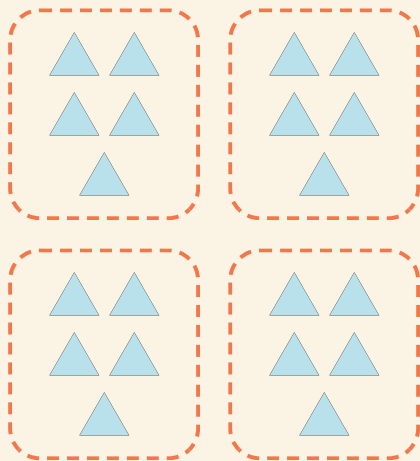


Helpot ryhmät

Nimi: _____ Päivämäärä: _____

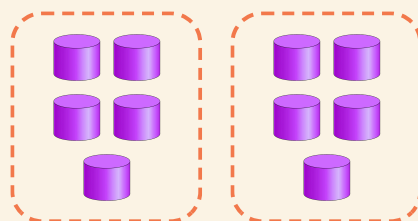
★ Laske yhtä suuret ryhmät. Täydennä kertolasku.

1



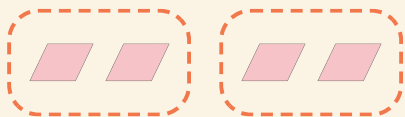
$$4 \times 5 = \square$$

2



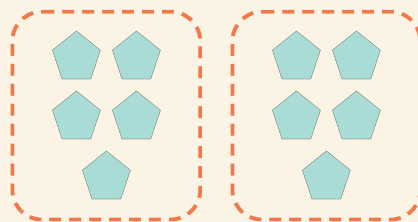
$$2 \times 5 = \square$$

3



$$2 \times 2 = \square$$

4



$$2 \times 5 = \square$$