



































# Salainen Sana Yhteenlasku

Ratkaise jokainen tehtävä paljastaaksesi kirjaimen. Mikä on piilotettu sana?



 +  +  +  = <input type="text"/> → <input type="text"/>	 +  +  = <input type="text"/> → <input type="text"/>
 +  +  +  = <input type="text"/> → <input type="text"/>	 +  +  +  = <input type="text"/> → <input type="text"/>
 +  +  +  = <input type="text"/> → <input type="text"/>	 +  +  +  = <input type="text"/> → <input type="text"/>
 +  +  +  = <input type="text"/> → <input type="text"/>	 +  +  +  = <input type="text"/> → <input type="text"/>
 +  +  = <input type="text"/> → <input type="text"/>	

W=22 V=5 O=28 M=32 A=26 B=12 P=23 R=21 I=31 T=35