


Tee 10!

Nimi: _____ Päivämäärä: _____

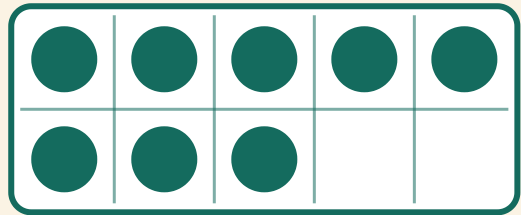
★ Montako pistettä lisää, että saadaan 10? Kirjoita puuttuva luku.

1



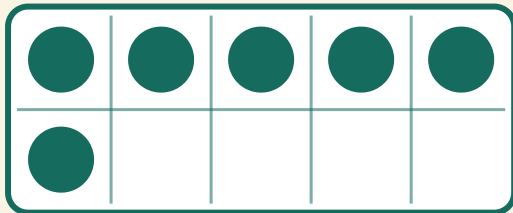
$$10 + \boxed{} = 10$$

2



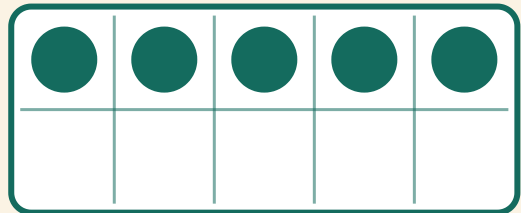
$$8 + \boxed{} = 10$$

3



$$6 + \boxed{} = 10$$

4



$$5 + \boxed{} = 10$$