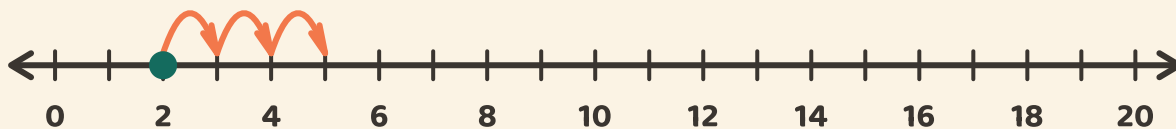


Hyppää lukusuoralla!

Nimi: _____ Päivämäärä: _____

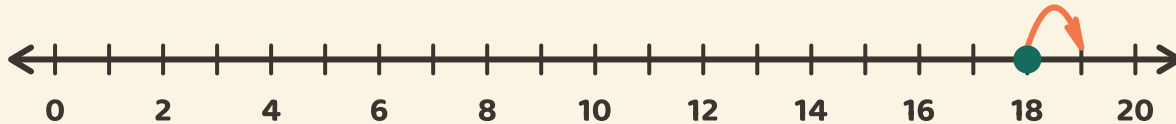
★ Aloita pisteestä. Laske hyppy. Kirjoita yhteenlaskun vastaus.

1



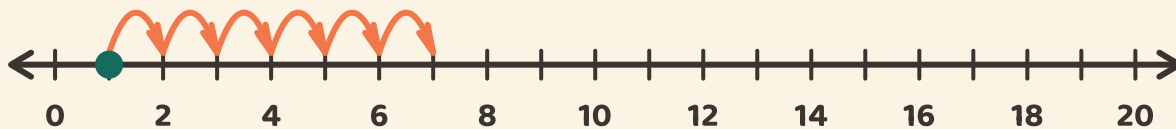
$$2 + 3 = \square$$

2



$$18 + 1 = \square$$

3



$$1 + 6 = \square$$