

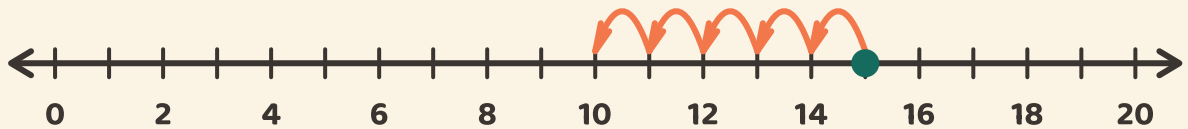
Hyppää taakse ja vähennä

Nimi: _____ Päivämäärä: _____



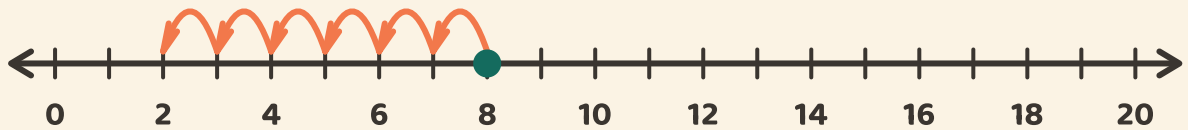
Seuraa hyppyjä taaksepäin. Kirjoita vähennyslaskun vastaus.

1



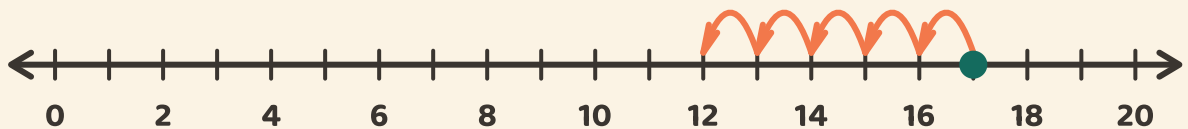
$$15 - 5 = \boxed{}$$

2



$$8 - 6 = \boxed{}$$

3



$$17 - 5 = \boxed{}$$