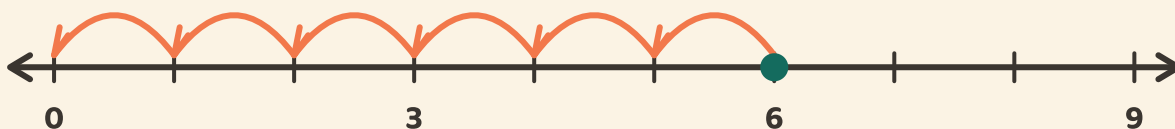


Hyppää alas nolnaan

Nimi: _____ Päivämäärä: _____

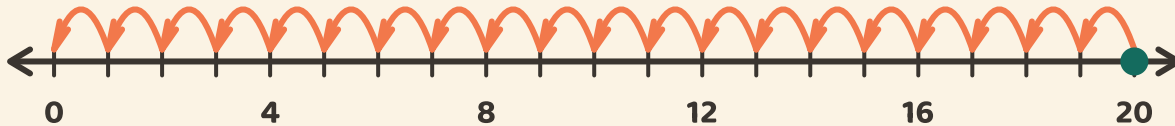
★ Laske yhtä suuret hyppyt takaisin nolnaan. Kirjoita, montako hyppyä.

1



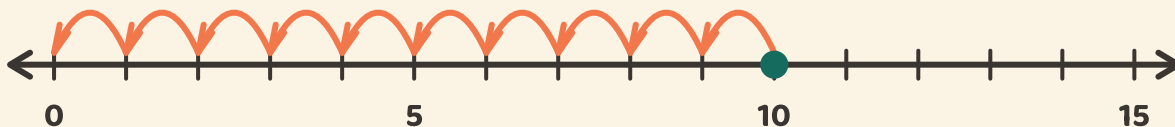
$$6 \div 3 = \boxed{}$$

2



$$20 \div 4 = \boxed{}$$

3



$$10 \div 5 = \boxed{}$$