






# Matematiikkapulmat

Ratkaise kuvapulmat!

$2 + 3$	$2 + 2$	$4 + 3$
$1 + 2$	$4 + 4$	$1 + 1$
$2 + 7$	$3 + 3$	$5 + 5$

3	4	5	8	7
				
2	9	10	6	
