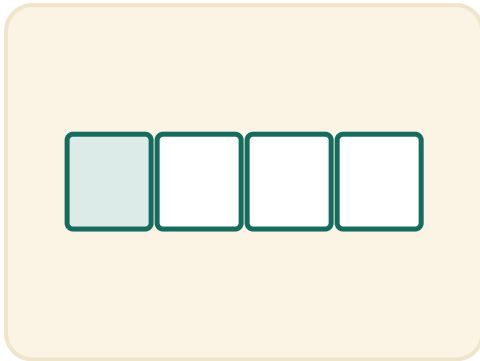


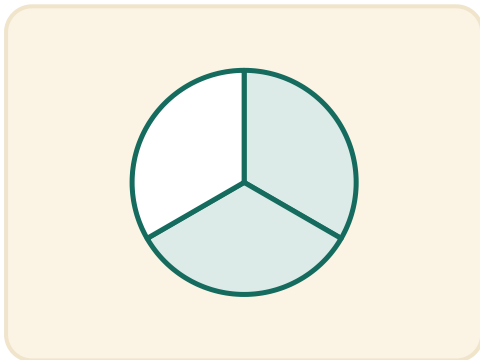
Murtolukukaverit

Nimi: _____ Päivämäärä: _____

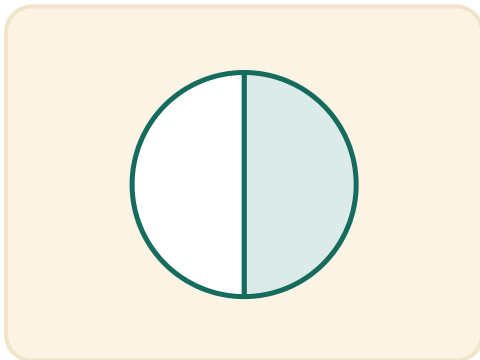
★ Piirrä viiva jokaisesta kuvasta sen murtolukuun.



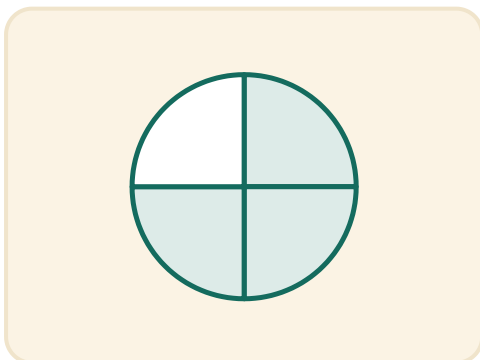
$$\frac{3}{4}$$



$$\frac{1}{2}$$



$$\frac{1}{4}$$



$$\frac{2}{3}$$