



Murtoluvut lukusuoralla

Nimi: _____ Päivämäärä: _____

★ Piste osoittaa murtoluvun. Ympyröi mikä.

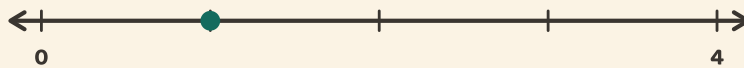
1

0 → 1 in 3 steps



2

0 → 1 in 4 steps



3

0 → 1 in 4 steps



4

0 → 1 in 3 steps

