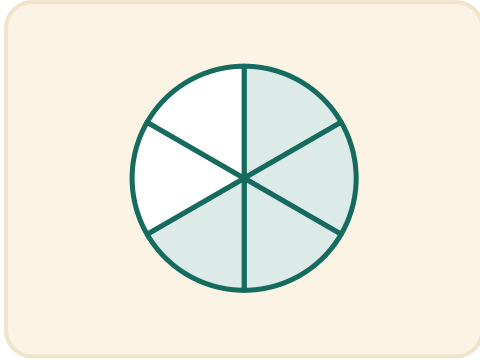



# Yhtä suuret kaverit

Nimi: \_\_\_\_\_ Päivämäärä: \_\_\_\_\_

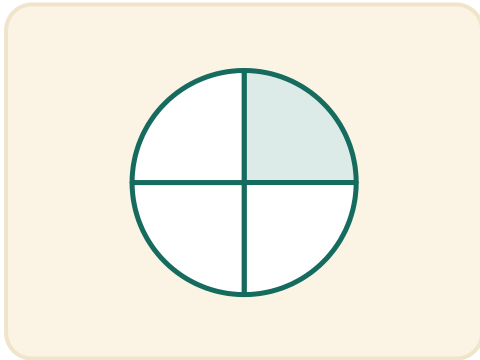
★ Piirrä viiva jokaisesta kuvasta sen murtolukuun.



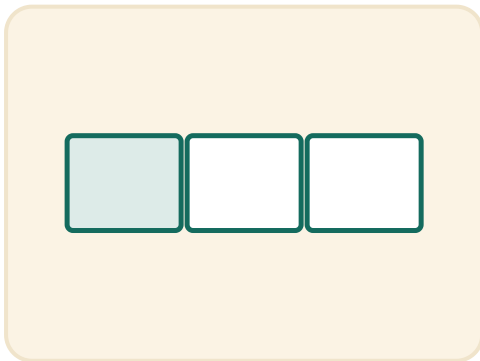
$$\frac{1}{2}$$



$$\frac{4}{6}$$



$$\frac{1}{3}$$



$$\frac{1}{4}$$