


Tee kymppi!

Nimi: _____ Päivämäärä: _____


 Ympyröi 10 ykköstä yhdeksi kympiksi. Kirjoita kympit ja ykköset.

1




$$\square \times 10 + \square$$

2



$$\square \times 10 + \square$$

3



$$\square \times 10 + \square$$

4



$$\square \times 10 + \square$$