

Hauskaa Vähennyslaskua

Löydä puuttuva luku vähennyslaskun täydentämiseksi!






1.   - = 1

2.           - = 7

3.          - = 8

4.        - = 3

5.          - = 4

6.      - = 3