




Hauskaa Vähennyslaskua

Löydä puuttuva luku vähennyslaskun täydentämiseksi!

1.   ___  1

2.   ___  1

3.   ___  8

4.   ___  5

5.   ___  6

6.   ___  2