





# Hauskaa Vähennyslaskua

Löydä puuttuva luku vähennyslaskun täydentämiseksi!

1.    \_\_\_  1

2.            \_\_\_  3

3.       \_\_\_  1

4.      \_\_\_  2

5.          \_\_\_  4

6.     \_\_\_  2