







Hauskaa Vähennyslaskua

Yliviivaa kuvat ja etsi vastaus!


1.   $2 - 1 =$ _____

2.       $6 - 2 =$ _____

3.            $10 - 3 =$ _____

4.     $4 - 1 =$ _____

5.        $7 - 2 =$ _____

6.     $4 - 2 =$ _____