


Hauska Yhteenlasku


Löydä puuttuva luku yhteenlaskun täydentämiseksi!


1.  + 3 = 6 3 + 3 = 6

2.  + 2 = 3 1 + 2 = 3

3.  + 1 = 4 3 + 1 = 4

4.  + 3 = 8 5 + 3 = 8

5.  + 2 = 6 4 + 2 = 6

6.  + 5 = 10 5 + 5 = 10