


Hauska Yhteenlasku


Löydä puuttuva luku yhteenlaskun täydentämiseksi!

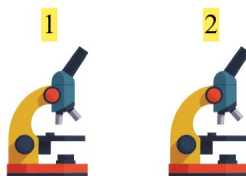
1.  + 2 = 7 5 + 2 = 7

2.  + 3 = 7 4 + 3 = 7

3.  + 3 = 4 1 + 3 = 4

4.  + 5 = 10 5 + 5 = 10

5.  + 1 = 5 4 + 1 = 5

6.  + 5 = 7 2 + 5 = 7