



Hauska Yhteenlasku


Löydä puuttuva luku yhteenlaskun täydentämiseksi!


1.  $+$ 4 $=$ 7 3 + 4 = 7

2.  $+$ 1 $=$ 6 5 + 1 = 6

3.  $+$ 2 $=$ 4 2 + 2 = 4

4.  $+$ 5 $=$ 7 2 + 5 = 7

5.  $+$ 4 $=$ 6 2 + 4 = 6

6.  $+$ 2 $=$ 3 1 + 2 = 3