




Hauska Yhteenlasku

Löydä puuttuva luku yhteenlaskun täydentämiseksi!

1.  +  _____ =  4

2.  +  _____ =  6

3.  +  _____ =  8

4.  +  _____ =  6

5.  +  _____ =  8

6.  +  _____ =  4