



Hauska Yhteenlasku


Löydä puuttuva luku yhteenlaskun täydentämiseksi!

1.  + 5 = 9 4 + 5 = 9

2.  + 3 = 4 1 + 3 = 4

3.  + 4 = 7 3 + 4 = 7

4.  + 2 = 5 3 + 2 = 5

5.  + 2 = 4 2 + 2 = 4

6.  + 1 = 5 4 + 1 = 5