



# Hauska Yhteenlasku


Löydä puuttuva luku yhteenlaskun täydentämiseksi!


1.  + 1 = 2 1 + 1 = 2

2.  + 5 = 8 3 + 5 = 8

3.  + 4 = 8 4 + 4 = 8

4.  + 2 = 5 3 + 2 = 5

5.  + 4 = 6 2 + 4 = 6

6.  + 3 = 7 4 + 3 = 7