







Hauska Yhteenlasku


Löydä puuttuva luku yhteenlaskun täydentämiseksi!

1.  ¹  ² + 5 = 7 2 + 5 = 7

2.  ¹  ² + 1 = 3 2 + 1 = 3

3.  ¹  ²  ³ + 3 = 6 3 + 3 = 6

4.  ¹  ² + 3 = 5 2 + 3 = 5

5.  ¹ + 5 = 6 1 + 5 = 6

6.  ¹  ²  ³ + 5 = 8 3 + 5 = 8