



Hauska Yhteenlasku


Löydä puuttuva luku yhteenlaskun täydentämiseksi!


1.  + 2 = 6 4 + 2 = 6

2.  + 2 = 3 1 + 2 = 3

3.  + 4 = 6 2 + 4 = 6

4.  + 1 = 4 3 + 1 = 4

5.  + 3 = 4 1 + 3 = 4

6.  + 3 = 7 4 + 3 = 7