



Hauska Yhteenlasku

Löydä puuttuva luku yhteenlaskun täydentämiseksi!


1.  + = 5

2.  + = 3

3.  + = 4

4.  + = 4

5.  + = 7

6.  + = 6