




Hauska Yhteenlasku

Löydä puuttuva luku yhteenlaskun täydentämiseksi!

1.  $+$ $1 = 3$ $2 + 1 = 3$

2.  $+$ $5 = 6$ $1 + 5 = 6$

3.  $+$ $2 = 3$ $1 + 2 = 3$

4.  $+$ $3 = 6$ $3 + 3 = 6$

5.  $+$ $5 = 8$ $3 + 5 = 8$

6.  $+$ $4 = 9$ $5 + 4 = 9$