



Hauska Yhteenlasku


Löydä puuttuva luku yhteenlaskun täydentämiseksi!

1.  + 2 = 5 3 + 2 = 5

2.  + 2 = 3 1 + 2 = 3

3.  + 4 = 7 3 + 4 = 7

4.  + 3 = 6 3 + 3 = 6

5.  + 3 = 5 2 + 3 = 5

6.  + 5 = 9 4 + 5 = 9