
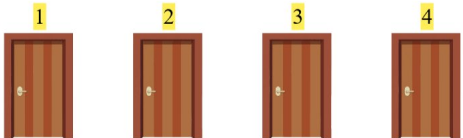



Hauska Yhteenlasku


Löydä puuttuva luku yhteenlaskun täydentämiseksi!

1.  $+$ $1 = 3$ $2 + 1 = 3$

2.  $+$ $4 = 8$ $4 + 4 = 8$

3.  $+$ $5 = 7$ $2 + 5 = 7$

4.  $+$ $2 = 7$ $5 + 2 = 7$

5.  $+$ $3 = 7$ $4 + 3 = 7$

6.  $+$ $3 = 8$ $5 + 3 = 8$