



Hauska Yhteenlasku


Löydä puuttuva luku yhteenlaskun täydentämiseksi!

1.  + 5 = 7 2 + 5 = 7

2.  + 5 = 6 1 + 5 = 6

3.  + 5 = 8 3 + 5 = 8

4.  + 2 = 5 3 + 2 = 5

5.  + 4 = 6 2 + 4 = 6

6.  + 5 = 9 4 + 5 = 9