



Hauska Yhteenlasku

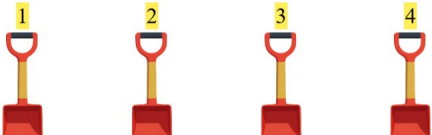
Löydä puuttuva luku yhteenlaskun täydentämiseksi!


1.  + 2 = 5 3 + 2 = 5

2.  + 1 = 4 3 + 1 = 4

3.  + 3 = 6 3 + 3 = 6

4.  + 4 = 5 1 + 4 = 5

5.  + 3 = 7 4 + 3 = 7

6.  + 3 = 5 2 + 3 = 5