





# Hauska Yhteenlasku

Löydä puuttuva luku yhteenlaskun täydentämiseksi!

1.  + 3 = 5 2 + 3 = 5

2.  + 1 = 2 1 + 1 = 2

3.  + 3 = 7 4 + 3 = 7

4.  + 4 = 5 1 + 4 = 5

5.  + 1 = 4 3 + 1 = 4

6.  + 5 = 7 2 + 5 = 7