




# Hauska Yhteenlasku

Löydä puuttuva luku yhteenlaskun täydentämiseksi!

1.   +  \_\_\_\_\_ =  5

2.  +  \_\_\_\_\_ =  2

3.     +  \_\_\_\_\_ =  7

4.  +  \_\_\_\_\_ =  5

5.    +  \_\_\_\_\_ =  4

6.   +  \_\_\_\_\_ =  7