




# Hauska Yhteenlasku

Löydä puuttuva luku yhteenlaskun täydentämiseksi!

1.   $+$   $1 = 3$   $2 + 1 = 3$

2.   $+$   $2 = 3$   $1 + 2 = 3$

3.   $+$   $1 = 4$   $3 + 1 = 4$

4.   $+$   $2 = 4$   $2 + 2 = 4$

5.   $+$   $3 = 8$   $5 + 3 = 8$

6.   $+$   $4 = 9$   $5 + 4 = 9$