



Hauska Yhteenlasku


Löydä puuttuva luku yhteenlaskun täydentämiseksi!

1.  + 3 = 5 2 + 3 = 5

2.  + 2 = 7 5 + 2 = 7

3.  + 3 = 4 1 + 3 = 4

4.  + 5 = 8 3 + 5 = 8

5.  + 3 = 7 4 + 3 = 7

6.  + 3 = 6 3 + 3 = 6