




Hauska Yhteenlasku

Löydä puuttuva luku yhteenlaskun täydentämiseksi!


1.  $+ 1 = 3$ $2 + 1 = 3$

2.  $+ 2 = 7$ $5 + 2 = 7$

3.  $+ 4 = 9$ $5 + 4 = 9$

4.  $+ 3 = 6$ $3 + 3 = 6$

5.  $+ 5 = 9$ $4 + 5 = 9$

6.  $+ 1 = 6$ $5 + 1 = 6$