




Hauska Yhteenlasku

Löydä puuttuva luku yhteenlaskun täydentämiseksi!

1.  + 3 = 5 2 + 3 = 5

2.  + 3 = 7 4 + 3 = 7

3.  + 5 = 6 1 + 5 = 6

4.  + 1 = 3 2 + 1 = 3

5.  + 1 = 6 5 + 1 = 6

6.  + 1 = 5 4 + 1 = 5